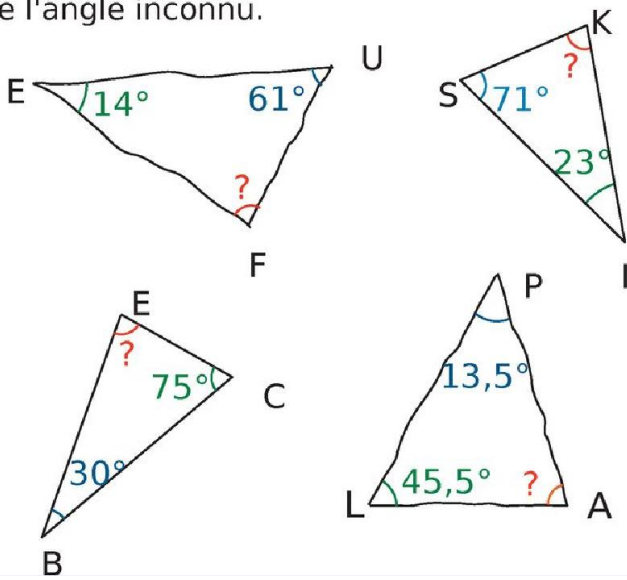


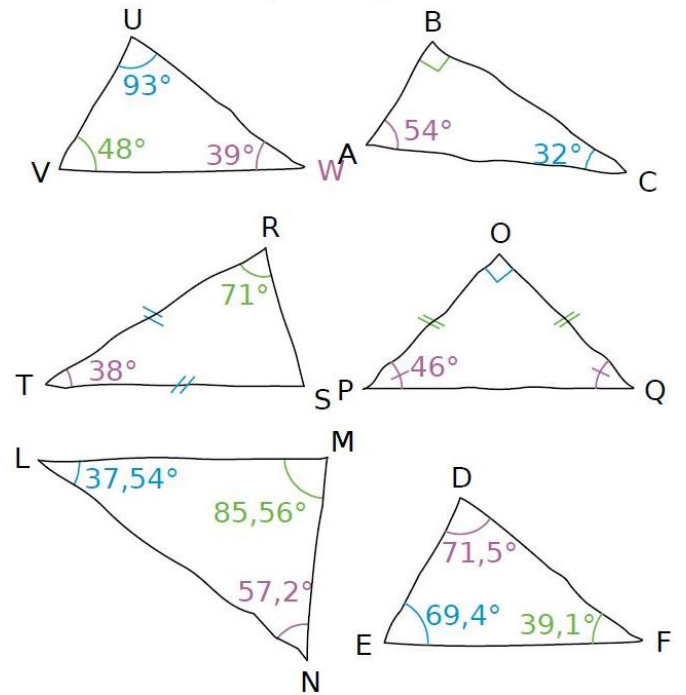
Exercice TR6

Dans chaque cas, calcule la mesure de l'angle inconnu.



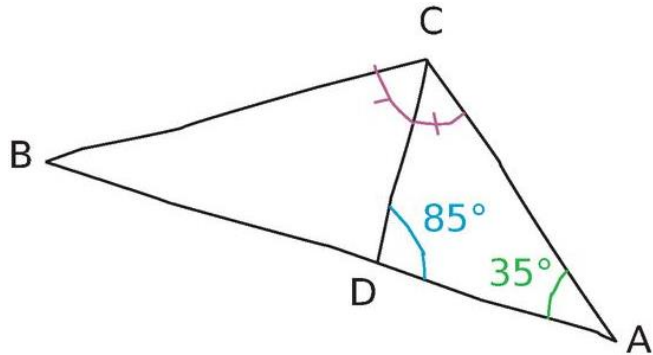
Exercice TR7

Les triangles représentés ci-dessous à main levée sont-ils constructibles ? Justifie chacune de tes réponses par un calcul.



Exercice TR8

Calcule, en justifiant, la mesure de l'angle \widehat{ABC} sachant que les points A, D et B sont alignés.



Exercice TR9

Calcule, à partir des données de la figure, la mesure de l'angle \widehat{OEF} .

